



ESTE MATERIAL TEM CARÁTER INFORMATIVO E EDUCATIVO

Se você gostou... visite nossas redes sociais

 facebook.com/italovector

 Prof.italovector

Visite também nosso site: italovector.com.br

LISTA DE EXERCÍCIOS ENEM - ONDULATÓRIA

Estudo Matemático da Onda / Período, Potência, Freqüência, Comprimento, etc

01 - (ENEM/2016)

A corrida dos 100 m rasos é uma das principais provas do atletismo e qualifica o homem mais rápido do mundo. Um corredor de elite foi capaz de percorrer essa distância em 10 s, com 41 passadas. Ele iniciou a corrida com o pé direito.

O período de oscilação do pé direito desse corredor foi mais próximo de

- a) $1/10$ s.
- b) $1/4$ s.
- c) $1/2$ s.
- d) 2 s.
- e) 4 s.

Ondas Eletromagnéticas / Ondas Eletromagnéticas

02 - (ENEM/2016)

Em mídias ópticas como CDs, DVDs e *blue-rays*, a informação é representada na forma de *bits* (zeros e uns) e é fisicamente gravada e lida por feixes de luz *laser*. Para gravar um valor “zero”, o *laser* brilha intensamente, de modo a “queimar” (tornar opaca) uma pequena área do disco, de tamanho comparável a seu comprimento de onda. Ao longo dos anos, as empresas de tecnologia vêm conseguindo aumentar a capacidade de armazenamento de dados em cada disco; em outras palavras, a área usada para se representar um *bit* vem se tornando cada vez mais reduzida.

Qual alteração da onda eletromagnética que constitui o *laser* permite o avanço tecnológico citado no texto?

- a) A diminuição de sua energia.
- b) O aumento de sua frequência.
- c) A diminuição de sua amplitude.
- d) O aumento de sua intensidade.
- e) A diminuição de sua velocidade.

03 - (ENEM/2016)

A telefonia móvel no Brasil opera com celulares cuja potência média de radiação é cerca de 0,6 W. Por recomendação do ANSI/IEEE, foram estipulados limites para exposição humana à radiação emitida por esses aparelhos. Para o atendimento dessa recomendação, valem os conselhos: segurar o aparelho a uma pequena distância do ouvido, usar fones de ouvido para as chamadas de voz e utilizar o aparelho no modo viva voz ou com dispositivos *bluetooth*. Essas medidas baseiam-se no fato de que a intensidade da radiação emitida decai rapidamente conforme a distância aumenta, por isso, afastar o aparelho reduz riscos.

COSTA, E. A. F. **Efeitos na saúde humana da exposição aos campos de radiofrequência.**

Disponível em: www.ced.ufsc.br. Acesso em: 16 nov. 2011 (adaptado).

Para reduzir a exposição à radiação do celular de forma mais eficiente, o usuário deve utilizar

- a) fones de ouvido, com o aparelho na mão.
- b) fones de ouvido, com o aparelho no bolso da calça.
- c) fones *bluetooth*, com o aparelho no bolso da camisa.
- d) o aparelho mantido a 1,5 cm do ouvido, segurado pela mão.
- e) o sistema viva voz, com o aparelho apoiado numa mesa de trabalho.

Estudo Matemático da Onda / Período, Potência, Frequência, Comprimento, etc

04 - (ENEM/2016)

Em 26 de dezembro de 2004, um *tsunami* devastador, originado a partir de um terremoto na costa da Indonésia, atingiu diversos países da Ásia, matando quase 300 mil pessoas. O grau de devastação deveu-se, em boa parte, ao fato de as ondas de um *tsunami* serem extremamente longas, com comprimento de onda de cerca de 200 km. Isto é muito maior que a espessura da lâmina de líquido, d , típica do Oceano Índico, que é de cerca de 4 km. Nessas condições, com boa aproximação, a sua velocidade de propagação torna-se dependente de d , obedecendo à relação $v = \sqrt{gd}$. Nessa expressão, g é a aceleração da gravidade, que pode ser tomada como 10 m/s^2 .

SILVEIRA, F. L.; VARRIALE, M. C. Propagação das ondas marítimas e dos *tsunami*.

Caderno Brasileiro de Ensino de Física, n. 2, 2005 (adaptado).

Sabendo-se que o *tsunami* consiste em uma série de ondas sucessivas, qual é o valor mais próximo do intervalo de tempo entre duas ondas consecutivas?

- a) 1 min
- b) 3,6 min
- c) 17 min

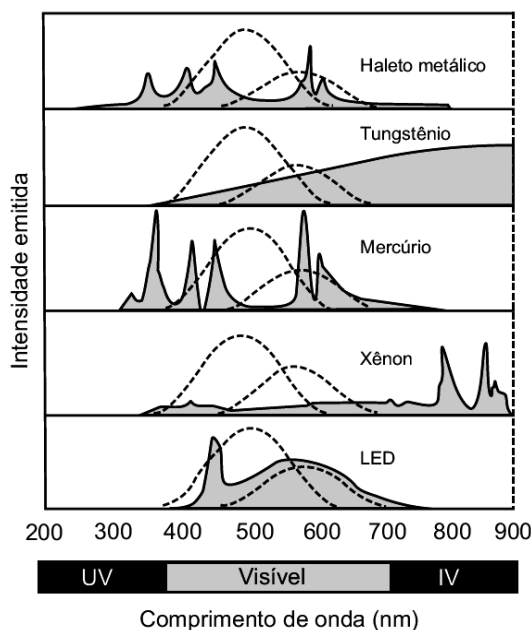
- d) 60 min
- e) 216 min

Ondas Eletromagnéticas / Ondas Eletromagnéticas

05 - (ENEM/2017)

A figura mostra como é a emissão de radiação eletromagnética para cinco tipos de lâmpada: haleto metálico, tungstênio, mercúrio, xênon e LED (diodo emissor de luz). As áreas marcadas em cinza são proporcionais à intensidade da energia liberada pela lâmpada. As linhas pontilhadas mostram a sensibilidade do olho humano aos diferentes comprimentos de onda. UV e IV são as regiões do ultravioleta e do infravermelho, respectivamente.

Um arquiteto deseja iluminar uma sala usando uma lâmpada que produza boa iluminação, mas que não aqueça o ambiente.



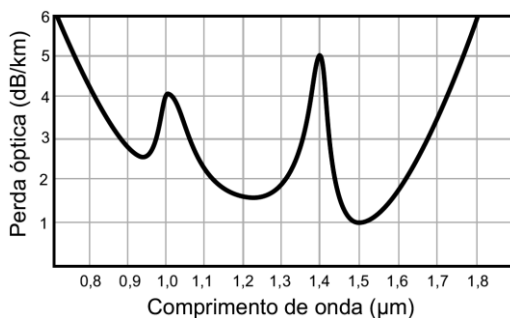
Disponível em: <http://zeiss-campus.magnet.fsu.edu>.
Acesso em: 8 maio 2017 (adaptado).

Qual tipo de lâmpada melhor atende ao desejo do arquiteto?

- a) Haleto metálico.
- b) Tungstênio.
- c) Mercúrio.
- d) Xênon.
- e) LED.

06 - (ENEM/2017)

Em uma linha de transmissão de informações por fibra óptica, quando um sinal diminui sua intensidade para valores inferiores a 10 dB, este precisa ser retransmitido. No entanto, intensidades superiores a 100 dB não podem ser transmitidas adequadamente. A figura apresenta como se dá a perda de sinal (perda óptica) para diferentes comprimentos de onda para certo tipo de fibra óptica.



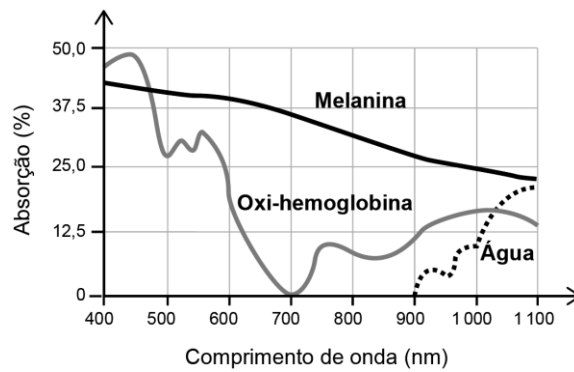
Atenuação e limitações das fibras ópticas. Disponível em: www.gta.ufrj.br. Acesso em: 25 maio 2017 (adaptado).

Qual é a máxima distância, em km, que um sinal pode ser enviado nessa fibra sem ser necessária uma retransmissão?

- a) 6
- b) 18
- c) 60
- d) 90
- e) 100

07 - (ENEM/2017)

A depilação a *laser* (popularmente conhecida como depilação a *laser*) consiste na aplicação de uma fonte de luz para aquecer e causar uma lesão localizada e controlada nos folículos capilares. Para evitar que outros tecidos sejam danificados, selecionam-se comprimentos de onda que são absorvidos pela melanina presente nos pelos, mas que não afetam a oxi-hemoglobina do sangue e a água dos tecidos da região em que o tratamento será aplicado. A figura mostra como é a absorção de diferentes comprimentos de onda pela melanina, oxi-hemoglobina e água.



MACEDO, F. S.; MONTEIRO, E. O. Epilação com *laser* e luz intensa pulsada. Revista Brasileira de Medicina. Disponível em: www.moreirajr.com.br. Acesso em: 4 set. 2015 (adaptado).

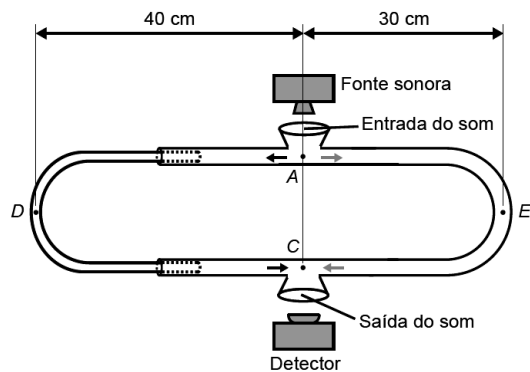
Qual é o comprimento de onda, em nm, ideal para a epilação a *laser*?

- a) 400
- b) 700
- c) 1 100
- d) 900
- e) 500

Interferência de Ondas / Condições, Defasagem etc

08 - (ENEM/2017)

O trombone de Quincke é um dispositivo experimental utilizado para demonstrar o fenômeno da interferência de ondas sonoras. Uma fonte emite ondas sonoras de determinada frequência na entrada do dispositivo. Essas ondas se dividem pelos dois caminhos (ADC e AEC) e se encontram no ponto C, a saída do dispositivo, onde se posiciona um detector. O trajeto ADC pode ser aumentado pelo deslocamento dessa parte do dispositivo. Com o trajeto ADC igual ao AEC, capta-se um som muito intenso na saída. Entretanto, aumentando-se gradativamente o trajeto ADC, até que ele fique como mostrado na figura, a intensidade do som na saída fica praticamente nula. Desta forma, conhecida a velocidade do som no interior do tubo (320 m/s), é possível determinar o valor da frequência do som produzido pela fonte.

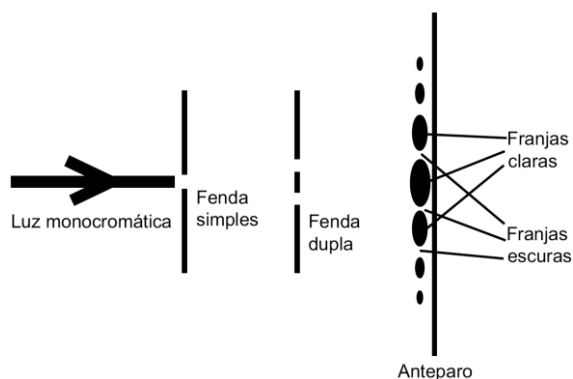


O valor da frequência, em hertz, do som produzido pela fonte sonora é

- a) 3 200.
- b) 1 600.
- c) 800.
- d) 640.
- e) 400.

09 - (ENEM/2017)

O debate a respeito da natureza da luz perdurou por séculos, oscilando entre a teoria corpuscular e a teoria ondulatória. No início do século XIX, Thomas Young, com a finalidade de auxiliar na discussão, realizou o experimento apresentado de forma simplificada na figura. Nele, um feixe de luz monocromática passa por dois anteparos com fendas muito pequenas. No primeiro anteparo há uma fenda e no segundo, duas fendas. Após passar pelo segundo conjunto de fendas, a luz forma um padrão com franjas claras e escuras.



SILVA, F. W. O. A evolução da teoria ondulatória da luz e os livros didáticos. *Revista Brasileira de Ensino de Física*, n. 1, 2007 (adaptado).

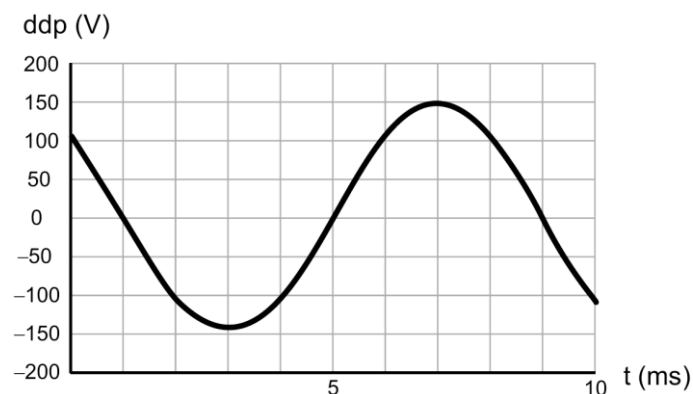
Com esse experimento, Young forneceu fortes argumentos para uma interpretação a respeito da natureza da luz, baseada em uma teoria

- a) corpuscular, justificada pelo fato de, no experimento, a luz sofrer dispersão e refração.
- b) corpuscular, justificada pelo fato de, no experimento, a luz sofrer dispersão e reflexão.
- c) ondulatória, justificada pelo fato de, no experimento, a luz sofrer difração e polarização.
- d) ondulatória, justificada pelo fato de, no experimento, a luz sofrer interferência e reflexão.
- e) ondulatória, justificada pelo fato de, no experimento, a luz sofrer difração e interferência.

Estudo Matemático da Onda / Período, Potência, Frequência, Comprimento, etc

10 - (ENEM/2017)

O osciloscópio é um instrumento que permite observar uma diferença de potencial (ddp) em um circuito elétrico em função do tempo ou em função de outra ddp. A leitura do sinal é feita em uma tela sob a forma de um gráfico tensão X tempo.



BOMFIM, M. Disponível em: www.ufpr.br.
Acesso em: 14 ago. 2012 (adaptado).

A frequência de oscilação do circuito elétrico estudado é mais próxima de

- a) 300 Hz.
- b) 250 Hz.
- c) 200 Hz.
- d) 150 Hz.
- e) 125 Hz.

11 - (ENEM/2017)

Ao sintonizar uma estação de rádio AM, o ouvinte está selecionando apenas uma dentre as inúmeras ondas que chegam à antena receptora do aparelho. Essa seleção acontece em razão da ressonância do circuito receptor com a onda que se propaga.

O fenômeno físico abordado no texto é dependente de qual característica da onda?

- a) Amplitude.
- b) Polarização.
- c) Frequência.
- d) Intensidade.
- e) Velocidade.

Ondas Eletromagnéticas / Ondas Eletromagnéticas

12 - (ENEM/2017)



DAVIS, J. Disponível em: <http://garfield.com>.

Acesso em: 15 ago. 2014.

A faixa espectral da radiação solar que contribui fortemente para o efeito mostrado na tirinha é caracterizada como

- a) visível.
- b) amarela.
- c) vermelha.
- d) ultravioleta.
- e) infravermelha.

13 - (ENEM/2009)

O progresso da tecnologia introduziu diversos artefatos geradores de campos eletromagnéticos. Uma das mais empregadas invenções nessa área são os telefones celulares e smartphones. As tecnologias de transmissão de celular atualmente em uso no Brasil contemplam dois sistemas. O primeiro deles é operado entre as frequências de 800 MHz e 900 MHz e constitui os chamados sistemas TDMA/CDMA. Já a tecnologia GSM, ocupa a frequência de 1.800 MHz.

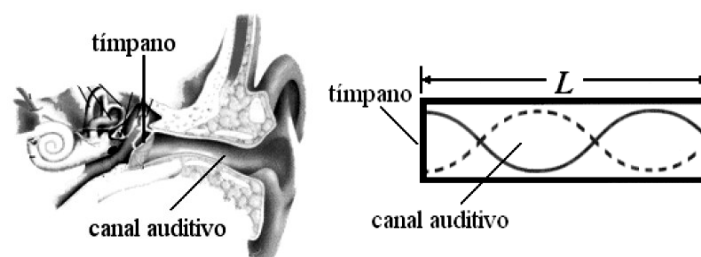
Considerando que a intensidade de transmissão e o nível de recepção “celular” sejam os mesmos para as tecnologias de transmissão TDMA/CDMA ou GSM, se um engenheiro tiver de escolher entre as duas tecnologias para obter a mesma cobertura, levando em consideração apenas o número de antenas em uma região, ele deverá escolher:

- a) a tecnologia GSM, pois é a que opera com ondas de maior comprimento de onda.
- b) a tecnologia TDMA/CDMA, pois é a que apresenta Efeito Doppler mais pronunciado.
- c) a tecnologia GSM, pois é a que utiliza ondas que se propagam com maior velocidade.
- d) qualquer uma das duas, pois as diferenças nas frequências são compensadas pelas diferenças nos comprimentos de onda.
- e) qualquer uma das duas, pois nesse caso as intensidades decaem igualmente da mesma forma, independentemente da frequência.

Fenômenos Ondulatórios / Batimentos, Ondas Estacionárias e Ressonância

14 - (ENEM/2009)

Um dos modelos usados na caracterização dos sons ouvidos pelo ser humano baseia-se na hipótese de que ele funciona como um tubo ressonante. Neste caso, os sons externos produzem uma variação de pressão do ar no interior do canal auditivo, fazendo a membrana (tímpano) vibrar. Esse modelo pressupõe que o sistema funciona de forma equivalente à propagação de ondas sonoras em tubos com uma das extremidades fechadas pelo tímpano. As frequências que apresentam ressonância com o canal auditivo têm sua intensidade reforçada, enquanto outras podem ter sua intensidade atenuada.



Considere que, no caso de ressonância, ocorra um nó sobre o tímpano e ocorra um ventre da onda na saída do canal auditivo, de comprimento L igual a 3,4 cm. Assumindo que a velocidade do som no ar (v) é igual a 340 m/s, a

frequência do primeiro harmônico (frequência fundamental, $n = 1$) que se formaria no canal, ou seja, a frequência mais baixa que seria reforçada por uma ressonância no canal auditivo, usando este modelo é

- a) 0,025 kHz, valor que considera a frequência do primeiro harmônico como igual a $nv/4L$ e equipara o ouvido a um tubo com ambas as extremidades abertas.
- b) 2,5 kHz, valor que considera a frequência do primeiro harmônico como igual a $nv/4L$ e equipara o ouvido a um tubo com uma extremidade fechada.
- c) 10 kHz, valor que considera a frequência do primeiro harmônico como igual a nv/L e equipara o ouvido a um tubo com ambas as extremidades fechadas.
- d) 2.500 kHz, valor que expressa a frequência do primeiro harmônico como igual a nv/L , aplicável ao ouvido humano.
- e) 10.000 kHz, valor que expressa a frequência do primeiro harmônico como igual a nv/L , aplicável ao ouvido e a tubo aberto e fechado.

Acústica / Som , Efeito Doppler e Eco

15 - (ENEM/2009)

A ultrassonografia, também chamada de ecografia, é uma técnica de geração de imagens muito utilizada em medicina. Ela se baseia na reflexão que ocorre quando um pulso de ultrassom, emitido pelo aparelho colocado em contato com a pele, atravessa a superfície que separa um órgão do outro, produzindo ecos que podem ser captados de volta pelo aparelho. Para a observação de detalhes no interior do corpo, os pulsos sonoros emitidos tem frequências altíssimas, de até 30MHz, ou seja, 30 milhões de oscilações a cada segundo.

A determinação de distâncias entre órgãos do corpo humano feita com esse aparelho fundamenta-se em duas variáveis imprescindíveis:

- a) a intensidade do som produzido pelo aparelho e a frequência desses sons.
- b) a quantidade de luz usada para gerar as imagens no aparelho e a velocidade do som nos tecidos.
- c) a quantidade de pulsos emitidos pelo aparelho a cada segundo e a frequência dos sons emitidos pelo aparelho.
- d) a velocidade do som no interior dos tecidos e o tempo entre os ecos produzidos pelas superfícies dos órgãos.
- e) o tempo entre os ecos produzidos pelos órgãos e a quantidade de pulsos emitidos a cada segundo pelo aparelho.

16 - (ENEM/2009)

Os radares comuns transmitem microondas que refletem na água, gelo e outras partículas na atmosfera. Podem, assim, indicar apenas o tamanho e a distância das partículas, tais como gotas de chuva. O radar Doppler, além

disso, é capaz de registrar a velocidade e a direção na qual as partículas se movimentam, fornecendo um quadro do fluxo de vendas em diferentes elevações.

Nos Estados Unidos, a Nexrad, uma rede de 158 radares Doppler, montada na década de 1990 pela Diretoria Nacional Oceânica e Atmosférica (NOAA), permite que o Serviço Meteorológico Nacional (NWS) emita alertas sobre situações do tempo potencialmente perigosas com um grau de certeza muito maior.

O pulso da onda do radar ao atingir uma gota de chuva, devolve uma pequena parte de sua energia numa onda de retorno, que chega ao disco do radar antes que ele emita a onda seguinte. Os radares da Nexrad transmitem entre 860 e 1300 pulsos por segundo, na frequência de 3000 MHz.

FISCHETTI, M., Radar Meteorológico: Sinta o Vento.
Science Americam Brasil, n. 08, São Paulo, jan.2003.

No radar Doppler, a diferença entre as frequências emitidas e recebidas pelo radar é dada por $\Delta f = (2u_r/c)f_0$ onde u_r é a velocidade relativa entre a fonte e o receptor, $c = 3,0 \times 10^8$ m/s é a velocidade da onda eletromagnética, e f_0 é a frequência emitida pela fonte. Qual é a velocidade, em km/h, de uma chuva, para a qual se registra no radar Doppler uma diferença de frequência de 300 Hz?

- a) 1,5 km/h
- b) 5,4 km/h
- c) 15 km/h
- d) 54 km/h
- e) 108 km/h

Estudo Matemático da Onda / Período, Potência, Frequência, Comprimento, etc

17 - (ENEM/2010)

Um garoto que passeia de carro com seu pai pela cidade, ao ouvir o rádio, percebe que a sua estação de rádio preferida, a 94,9 FM, que opera na banda de frequência de megahertz, tem seu sinal de transmissão superposto pela transmissão de uma rádio pirata de mesma frequência que interfere no sinal da emissora do centro em algumas regiões da cidade.

Considerando a situação apresentada, a rádio pirata interfere no sinal da rádio do centro devido à

- a) atenuação promovida pelo ar nas radiações emitidas.
- b) maior amplitude da radiação emitida pela estação do centro.
- c) diferença de intensidade entre as fontes emissoras de ondas.

- d) menor potência de transmissão das ondas da emissora pirata.
- e) semelhança dos comprimentos de onda das radiações emitidas.

18 - (ENEM/2010)

Ao contrário dos rádios comuns (AM e FM), em que uma única antena transmissora é capaz de alcançar toda a cidade, os celulares necessitam de várias antenas para cobrir um vasto território. No caso dos rádios FM, a frequência de transmissão está na faixa dos MHz (ondas de rádio), enquanto, para os celulares, a frequência está na casa dos GHz (micro-ondas). Quando comparado aos rádios comuns, o alcance de um celular é muito menor.

Considerando-se as informações do texto, o fator que possibilita essa diferença entre propagação das ondas de rádio e as micro-ondas é que as ondas de rádio são

- a) facilmente absorvidas na camada da atmosfera superior conhecida como ionosfera.
- b) capazes de contornar uma diversidade de obstáculos como árvores, edifícios e pequenas elevações.
- c) mais refratadas pela atmosfera terrestre, que apresenta maior índice de refração para as ondas de rádio.
- d) menos atenuadas por interferência, pois o número de aparelhos que utilizam ondas de rádio é menor.
- e) constituídas por pequenos comprimentos de onda que lhes conferem um alto poder de penetração em materiais de baixa densidade.

19 - (ENEM/2011)

Para que uma substância seja colorida ela deve absorver luz na região do visível. Quando uma amostra absorve luz visível, a cor que percebemos é a soma das cores restantes que são refletidas ou transmitidas pelo objeto. A Figura 1 mostra o espectro de absorção para uma substância e é possível observar que há um comprimento de onda em que a intensidade de absorção é máxima. Um observador pode prever a cor dessa substância pelo uso da roda de cores (Figura 2): o comprimento de onda correspondente à cor do objeto é encontrado no lado oposto ao comprimento de onda da absorção máxima.

Figura 1

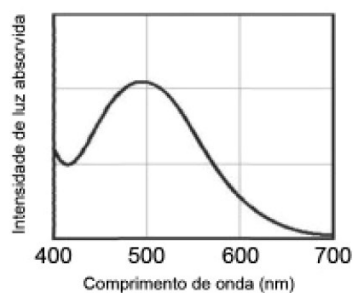
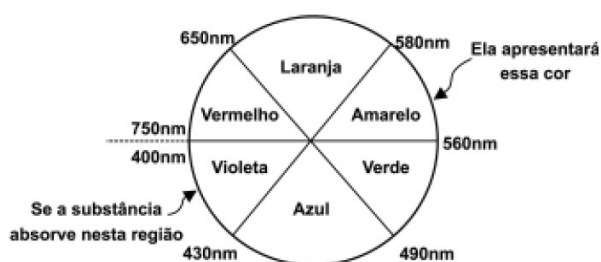


Figura 2



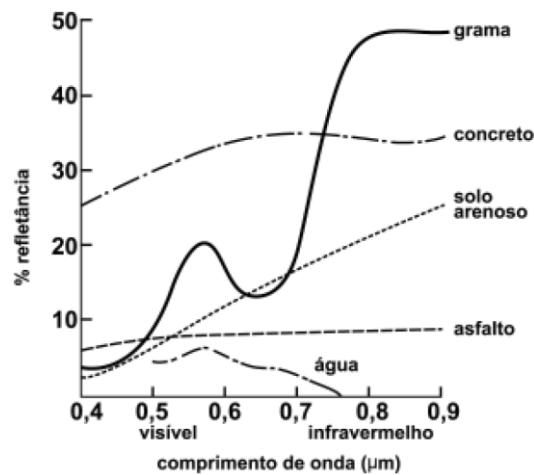
Brown, T. **Química a Ciência Central**. 2005 (adaptado).

Qual a cor da substância que deu origem ao espectro da Figura 1?

- a) Azul.
- b) Verde.
- c) Violeta.
- d) Laranja.
- e) Vermelho.

20 - (ENEM/2011)

O processo de interpretação de imagens capturadas por sensores instalados a bordo de satélites que imageiam determinadas faixas ou bandas do espectro de radiação eletromagnética (REM) baseia-se na interação dessa radiação com os objetos presentes sobre a superfície terrestre. Uma das formas de avaliar essa interação é por meio da quantidade de energia refletida pelos objetos. A relação entre a refletância de um dado objeto e o comprimento de onda da REM é conhecida como curva de comportamento espectral ou assinatura espectral do objeto, como mostrado na figura, para objetos comuns na superfície terrestre.



D'ARCO, E. **Radiometria e Comportamento Espectral de Alvos**. INPE.

Disponível em: <http://www.agro.unitau.br>. Acesso em: 3 maio 2009.

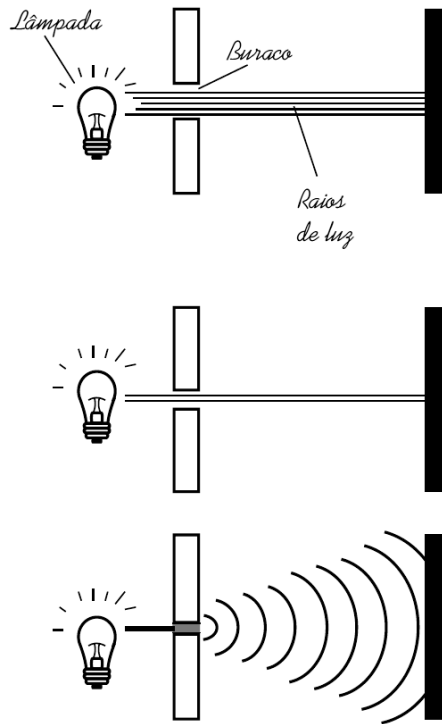
De acordo com as curvas de assinatura espectral apresentadas na figura, para que se obtenha a melhor discriminação dos alvos mostrados, convém selecionar a banda correspondente a que comprimento de onda em micrômetros (μm)?

- a) 0,4 a 0,5.
- b) 0,5 a 0,6.
- c) 0,6 a 0,7.
- d) 0,7 a 0,8.
- e) 0,8 a 0,9.

Fenômenos Ondulatórios / Difração, Polarização, etc

21 - (ENEM/2011)

Ao diminuir o tamanho de um orifício atravessado por um feixe de luz, passa menos luz por intervalo de tempo, e próximo da situação de completo fechamento do orifício, verifica-se que a luz apresenta um comportamento como o ilustrado nas figuras. Sabe-se que o som, dentro de suas particularidades, também pode se comportar dessa forma.



FIOLHAIS, C. **Física divertida**. Brasília: UnB, 2000 (adaptado).

Em qual das situações a seguir está representado o fenômeno descrito no texto?

- Ao se esconder atrás de um muro, um menino ouve a conversa de seus colegas.
- Ao gritar diante de um desfiladeiro, uma pessoa ouve a repetição do seu próprio grito.
- Ao encostar o ouvido no chão, um homem percebe o som de uma locomotiva antes de ouvi-lo pelo ar.
- Ao ouvir uma ambulância se aproximando, uma pessoa percebe o som mais agudo do que quando aquela se afasta.
- Ao emitir uma nota musical muito aguda, uma cantora de ópera faz com que uma taça de cristal se despedace.

Estudo Matemático da Onda / Período, Potência, Frequência, Comprimento, etc

22 - (ENEM/2012)

Em um dia de chuva muito forte, constatou-se uma goteira sobre o centro de uma piscina coberta, formando um padrão de ondas circulares. Nessa situação, observou-se que caíam duas gotas a cada segundo. A distância entre duas cristas consecutivas era de 25 cm e cada uma delas se aproximava da borda da piscina com velocidade de 1,0 m/s. Após algum tempo a chuva diminuiu e a goteira passou a cair uma vez por segundo.

Com a diminuição da chuva, a distância entre as cristas e a velocidade de propagação da onda se tornaram, respectivamente,

- a) maior que 25 cm e maior 1,0 m/s.
- b) maior que 25 cm e igual a 1,0 m/s.
- c) menor que 25 cm e menor que 1,0 m/s.
- d) menor que 25 cm e igual a 1,0 m/s.
- e) igual a 25 cm e igual a 1,0 m/s.

23 - (ENEM/2012)

Nossa pele possui células que reagem à incidência de luz ultravioleta e produzem uma substância chamada melanina, responsável pela pigmentação da pele. Pensando em se bronzear, uma garota vestiu um biquíni, acendeu a luz de seu quarto e deitou-se exatamente abaixo da lâmpada incandescente. Após várias horas ela percebeu que não conseguiu resultado algum.

O bronzeamento não ocorreu porque a luz emitida pela lâmpada incandescente é de

- a) baixa intensidade.
- b) baixa frequência.
- c) um espectro contínuo.
- d) amplitude inadequada.
- e) curto comprimento de onda.

Oscilações / M.H.S e Dinâmica do M.H.S

24 - (ENEM/2014)

Christiaan Huygens, em 1656, criou o relógio de pêndulo. Nesse dispositivo, a pontualidade baseia-se na regularidade das pequenas oscilações do pêndulo. Para manter a precisão desse relógio, diversos problemas foram contornados. Por exemplo, a haste passou por ajustes até que, no início do século XX, houve uma inovação, que foi sua fabricação usando uma liga metálica que se comporta regularmente em um largo intervalo de temperaturas.

YODER, J. G. **Unrolling Time**: Christiaan Huygens and the mathematization of nature. Cambridge: Cambridge University Press, 2004 (adaptado).

Desprezando a presença de forças dissipativas e considerando a aceleração da gravidade constante, para que esse tipo de relógio realize corretamente a contagem do tempo, é necessário que o(a)

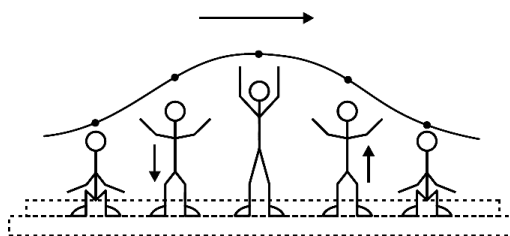
- a) comprimento da haste seja mantido constante.

- b) massa do corpo suspenso pela haste seja pequena.
- c) material da haste possua alta condutividade térmica.
- d) amplitude da oscilação seja constante a qualquer temperatura.
- e) energia potencial gravitacional do corpo suspenso se mantenha constante.

Estudo Matemático da Onda / Período, Potência, Frequência, Comprimento, etc

25 - (ENEM/2013)

Uma manifestação comum das torcidas em estádios de futebol é a *ola mexicana*. Os espectadores de uma linha, sem sair do lugar e sem se deslocarem lateralmente, ficam de pé e se sentam, sincronizados com os da linha adjacente. O efeito coletivo se propaga pelos espectadores do estádio, formando uma onda progressiva, conforme ilustração.



Calcula-se que a velocidade de propagação dessa “onda humana” é 45km/h e que cada período de oscilação contém 16 pessoas, que se levantam e sentam organizadamente distanciadas entre si por 80cm.

Disponível em: www.ufsm.br. Acesso em 7 dez. 2012 (adaptado)

Nessa *ola mexicana*, a frequência da onda, em hertz, é um valor mais próximo de

- a) 0,3.
- b) 0,5.
- c) 1,0.
- d) 1,9.
- e) 3,7.

26 - (ENEM/2013)

Em viagens de avião, é solicitado aos passageiros o desligamento de todos os aparelhos cujo funcionamento envolva a emissão ou a recepção de ondas eletromagnéticas. O procedimento é utilizado para eliminar fontes de radiação que possam interferir nas comunicações via rádio dos pilotos com a torre de controle.

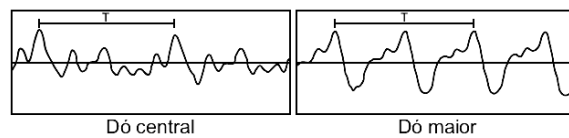
A propriedade das ondas emitidas que justifica o procedimento adotado é o fato de

- a) terem fases opostas.
- b) serem ambas audíveis.
- c) terem intensidades inversas.
- d) serem de mesma amplitude.
- e) terem frequências próximas.

Acústica / Som , Efeito Doppler e Eco

27 - (ENEM/2013)

Em um piano, o Dó central e a próxima nota Dó (Dó maior) apresentam sons parecidos, mas não idênticos. É possível utilizar programas computacionais para expressar o formato dessas ondas sonoras em cada uma das situações como apresentado nas figuras, em que estão indicados intervalos de tempo idênticos (T).



A razão entre as frequências do Dó central e do Dó maior é de:

- a) $\frac{1}{2}$
- b) 2
- c) 1
- d) $\frac{1}{4}$
- e) 4

Reflexão e Refração de Ondas / Reflexão, Refração, Leis, Velocidade etc

28 - (ENEM/2010)

As ondas eletromagnéticas, como a luz visível e as ondas de rádio, viajam em linha reta em um meio homogêneo. Então, as ondas de rádio emitidas na região litorânea do Brasil não alcançariam a região amazônica do Brasil por causa da curvatura da Terra. Entretanto sabemos que é possível transmitir ondas de rádio entre essas localidades devido à ionosfera.

Com ajuda da ionosfera, a transmissão de ondas planas entre o litoral do Brasil e a região amazônica é possível por meio da

- a) reflexão.
- b) refração.
- c) difração.
- d) polarização.
- e) interferência.

Estudo Matemático da Onda / Período, Potência, Frequência, Comprimento, etc

29 - (ENEM/2014)

Alguns sistemas de segurança incluem detectores de movimento. Nesses sensores, existe uma substância que se polariza na presença de radiação eletromagnética de certa região de frequência, gerando uma tensão que pode ser amplificada e empregada para efeito de controle. Quando uma pessoa se aproxima do sistema, a radiação emitida por seu corpo é detectada por esse tipo de sensor.

WENDLING, M. **Sensores**. Disponível em: www2.feg.unesp.br. Acesso em: 7 maio 2014 (adaptado).

A radiação captada por esse detector encontra-se na região de frequência

- a) da luz visível.
- b) do ultravioleta.
- c) do infravermelho.
- d) das micro-ondas.
- e) das ondas longas de rádio.

Fenômenos Ondulatórios / Batimentos, Ondas Estacionárias e Ressonância

30 - (ENEM/2014)

Ao sintonizarmos uma estação de rádio ou um canal de TV em um aparelho, estamos alterando algumas características elétricas de seu circuito receptor. Das inúmeras ondas eletromagnéticas que chegam simultaneamente ao receptor, somente aquelas que oscilam com determinada frequência resultarão em máxima absorção de energia.

O fenômeno descrito é a

- a) difração.
- b) refração.
- c) polarização.
- d) interferência.
- e) ressonância.

Estudo Matemático da Onda / Período, Potência, Frequência, Comprimento, etc

31 - (ENEM/2014)

Quando adolescente, as nossas tardes, após as aulas, consistiam em tomar às mãos o violão e o dicionário de acordes de Almir Chediak e desafiar nosso amigo Hamilton a descobrir, apenas ouvindo o acorde, quais notas eram escolhidas. Sempre perdíamos a aposta, ele possui o ouvido absoluto.

O ouvido absoluto é uma característica perceptual de poucos indivíduos capazes de identificar notas isoladas sem outras referências, isto é, sem precisar relacioná-las com outras notas de uma melodia.

LENT, R. **O cérebro do meu professor de acordeão.**

Disponível em: <http://cienciahoje.uol.com.br>.

Acesso em: 15 ago. 2012 (adaptado).

No contexto apresentado, a propriedade física das ondas que permite essa distinção entre as notas é a

- a) frequência.
- b) intensidade.
- c) forma da onda.
- d) amplitude da onda.
- e) velocidade de propagação.

Acústica / Cordas e Tubos Sonoros

32 - (ENEM/2009)

Na era do telefone celular, ainda é possível se comunicar com um sistema bem mais arcaico e talvez mais divertido: o “telefone com copos de plástico e barbante”.



A onda sonora produzida pelo menino faz vibrar o fundo de um copo plástico, em um movimento de vai e vem imperceptível, mas que cria uma perturbação ao longo do barbante esticado. O barbante, por sua vez, conduz o “som” até o outro copo. Essa perturbação faz vibrar o fundo do segundo copo plástico e a energia veiculada pelo barbante pode, assim, ser restituída sob a forma de uma onda sonora perceptível. Assim, se a menina colocar o ouvido próximo ao outro copo, ela poderá escutar a voz do menino de forma nítida.

Com relação ao assunto tratado no texto e na figura, conclui-se que

- a) a antena de um telefone celular exerce a mesma função do barbante que une os dois copos de plástico.
- b) o telefone celular utiliza o mesmo princípio do “telefone de copos plásticos e barbante” para transmitir o som.
- c) as ondas do telefone “com copos de plástico e barbante” são ondas eletromagnéticas, portanto, elas não precisam de um meio material para se propagar.
- d) o segredo para o telefone “com copos de plástico e barbante” funcionar está no barbante que une os dois fundos dos copos e conduz ondas mecânicas de um copo para o outro.
- e) a voz é um sinal complexo constituído de ondas sonoras de mesma frequência. Por esse motivo, o receptor pode ouvir o emissor através da onda se propagando no fio do telefone “com copos de plástico e barbante”.

Reflexão e Refração de Ondas / Reflexão, Refração, Leis, Velocidade etc

33 - (ENEM/2009)

A medida da velocidade de um veículo, utilizando radar, baseia-se no fato de que as ondas emitidas pelo radar e detectadas após serem refletidas pelo veículo em movimento têm frequências diferentes. Esse fenômeno é denominado Efeito Doppler.

A onda refletida pelo veículo citada no texto é uma

- a) onda mecânica e se propaga com a velocidade do som.
- b) onda eletromagnética e se propaga com a velocidade da luz.
- c) onda mecânica e tem o mesmo comprimento de onda da onda incidente.
- d) onda eletromagnética que tem o mesmo comprimento de onda da onda incidente.

- e) onda eletromagnética que, devido à sua alta frequência, se propaga com velocidade maior que a velocidade da luz.

Estudo Matemático da Onda / Período, Potência, Frequência, Comprimento, etc

34 - (ENEM/2011)

Na câmara de cozimento de um forno de micro-ondas, a flutuação do campo elétrico é adequada para o aquecimento da água. Esse tipo de forno utiliza micro-ondas com frequência de 2,45 GHz para alterar a orientação das moléculas de água bilhões de vezes a cada segundo. Essa foi a frequência escolhida, porque ela não é usada em comunicações e também porque dá às moléculas de água o tempo necessário para completar uma rotação. Dessa forma, um forno de micro-ondas funciona através do processo de ressonância, transferindo energia para os alimentos.

TORRES, C. M. A. *et al.* **Física: ciência e tecnologia**. São Paulo: Moderna, 2001 (adaptado).

Sabendo que a velocidade de propagação das ondas eletromagnéticas no meio é de cerca de 3×10^8 m/s, qual é, aproximadamente, o comprimento de onda da micro-onda presente no forno, em cm?

- a) 0,12
- b) 1,22
- c) 8,17
- d) 12,2
- e) 817

35 - (ENEM/2012)

Os fornos domésticos de micro-ondas trabalham com uma frequência de ondas eletromagnéticas que atuam fazendo rotacionar as moléculas de água, gordura e açúcar e, conseqüentemente, fazendo com que os alimentos sejam aquecidos. Os telefones sem fio também usam ondas eletromagnéticas na transmissão do sinal. As especificações técnicas desses aparelhos são informadas nos quadros 1 e 2, retirados de seus manuais.

Quadro 1 - Especificações técnicas do telefone	
Frequência de operação	2 409,60 MHz a 2 420,70 MHz
Modulação	FM
Frequência	60 Hz
Potência máxima	1,35 W

Quadro 2 - Especificações técnicas do forno de micro-ondas	
Capacidade	31 litros
Frequência	60 Hz
Potência de saída	1 000 W
Frequência das micro-ondas	2 450 MHz

O motivo de a radiação do telefone não aquecer como a do micro-ondas é que

- a) o ambiente no qual o telefone funciona é aberto.
- b) a frequência de alimentação é 60 Hz para os dois aparelhos.
- c) a potência do telefone sem fio é menor que a do forno.
- d) o interior do forno reflete as micro-ondas e as concentra.
- e) a modulação das ondas no forno é maior do que no telefone.

Acústica / Som , Efeito Doppler e Eco

36 - (ENEM/2012)

Para afinar um violão, um músico necessita de uma nota para referência, por exemplo, a nota Lá em um piano. Dessa forma, ele ajusta as cordas do violão até que ambos os instrumentos toquem a mesma nota. Mesmo ouvindo a mesma nota, é possível diferenciar o som emitido pelo piano e pelo violão.

Essa diferenciação é possível, porque

- a) a ressonância do som emitido pelo piano é maior.
- b) a potência do som emitido pelo piano é maior.
- c) a intensidade do som emitido por cada instrumento é diferente.
- d) o timbre do som produzido por cada instrumento é diferente.
- e) a amplitude do som emitido por cada instrumento é diferente.

Estudo Matemático da Onda / Período, Potência, Frequência, Comprimento, etc

37 - (ENEM/2013)

Em um violão afinado, quando se toca a corda Lá com seu comprimento efetivo (harmônico fundamental), o som produzido tem frequência de 440 Hz.

Se a mesma corda do violão é comprimida na metade do seu comprimento, a frequência do novo harmônico

- a) se reduz à metade, porque o comprimento de onda dobrou.

- b) dobra, porque o comprimento de onda foi reduzido à metade.
- c) quadruplica, porque o comprimento de onda foi reduzido à metade.
- d) quadruplica, porque o comprimento de onda foi reduzido à quarta parte.
- e) não se modifica, porque é uma característica independente do comprimento da corda que vibra.

Oscilações / M.H.S e Dinâmica do M.H.S

38 - (ENEM/2013)

Um enfeite para berço é constituído de um aro metálico com um ursinho pendurado, que gira com velocidade angular constante. O aro permanece orientado na horizontal, de forma que o movimento do ursinho seja projetado na parede pela sua sombra.

Enquanto o ursinho gira, sua sombra descreve um movimento

- a) circular uniforme.
- b) retilíneo uniforme.
- c) retilíneo harmônico simples.
- d) circular uniformemente variado.
- e) retilíneo uniformemente variado.

Estudo Matemático da Onda / Período, Potência, Frequência, Comprimento, etc

39 - (ENEM/2013)

Visando reduzir a poluição sonora de uma cidade, a Câmara de Vereadores aprovou uma lei que impõe o limite máximo de 40 dB (decibéis) para o nível sonoro permitido após as 22 horas.

Ao aprovar a referida lei, os vereadores estão limitando qual característica da onda?

- a) A altura da onda sonora.
- b) A amplitude da onda sonora.
- c) A frequência da onda sonora.
- d) A velocidade da onda sonora.
- e) O timbre da onda sonora.

40 - (ENEM/2013)

As moléculas de água são dipolos elétricos que podem se alinhar com o campo elétrico, da mesma forma que uma bússola se alinha com um campo magnético. Quando o campo elétrico oscila, as moléculas de água fazem o mesmo. No forno de micro-ondas, a frequência de oscilação do campo elétrico é igual à frequência natural de rotação das moléculas de água. Assim, a comida é cozida quando o movimento giratório das moléculas de água transfere a energia térmica às moléculas circundantes.

HEWITT, P. **Física conceitual**. Porto Alegre: Bookman, 2002 (adaptado).

A propriedade das ondas que permite, nesse caso, um aumento da energia de rotação das moléculas de água é a

- a) reflexão.
- b) refração.
- c) ressonância.
- d) superposição.
- e) difração.

41 - (ENEM/2014)

O sonar é um equipamento eletrônico que permite a localização de objetos e a medida de distâncias no fundo do mar, pela emissão de sinais sônicos e ultrassônicos e a recepção dos respectivos ecos. O fenômeno o eco corresponde à reflexão de uma onda sonora por um objeto, a qual volta ao receptor pouco tempo depois de o som ser emitido. No caso do ser humano, o ouvido é capaz de distinguir sons separados por, no mínimo, 0,1 segundo.

Considerando uma condição em que a velocidade do som no ar é 340 m/s, qual é a distância mínima a que uma pessoa deve estar de um anteparo refletor para que se possa distinguir o eco do som emitido?

- a) 17 m
- b) 34 m
- c) 68 m
- d) 1 700 m
- e) 3 400 m

42 - (ENEM/2014)

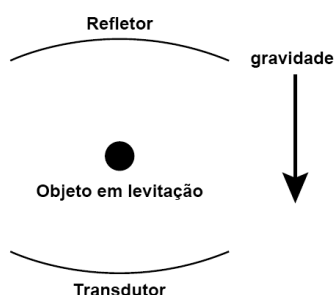
Ao assistir a uma apresentação musical, um músico que estava na plateia percebeu que conseguia ouvir quase perfeitamente o som da banda, perdendo um pouco de nitidez nas notas mais agudas. Ele verificou que havia muitas pessoas bem mais altas à sua frente, bloqueando a visão direta do palco e o acesso aos alto-falantes. Sabe-se que a velocidade do som no ar é 340 m/s e que a região de frequências das notas emitidas é de, aproximadamente, 20 Hz a 4 000 Hz.

Qual fenômeno ondulatório é o principal responsável para que o músico percebesse essa diferenciação do som?

- a) Difração.
- b) Reflexão.
- c) Refração.
- d) Atenuação.
- e) Interferência.

43 - (ENEM/2014)

O fenômeno da levitação de corpos ocorre, na Terra, quando a força gravitacional é equilibrada, fazendo com que um objeto paira no ar. O som pode fazer objetos levitarem, fenômeno chamado de levitação acústica. Um levitador acústico deve conter um transdutor, que é uma superfície vibratória que emite o som, e um refletor. Ambos têm superfícies côncavas para focalizar o som, conforme a ilustração:



Disponível em: <http://ciencia.hsw.uol.com.br>.

Acesso em: 28 fev.2012 (adaptado).

Para que haja a levitação indicada na figura, a força que equilibra o peso do objeto deve ser decorrente da

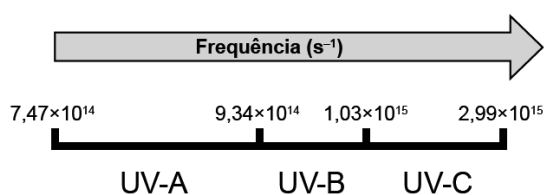
- a) ação mecânica direta do transdutor sobre o objeto.

- b) ressonância que ocorre entre a onda sonora e o objeto.
- c) pressão que o som emitido pelo transdutor aplica no objeto.
- d) interferência destrutiva do som que anula o movimento do objeto.
- e) diferença de pressão dos sons emitido e refletido aplicada no objeto.

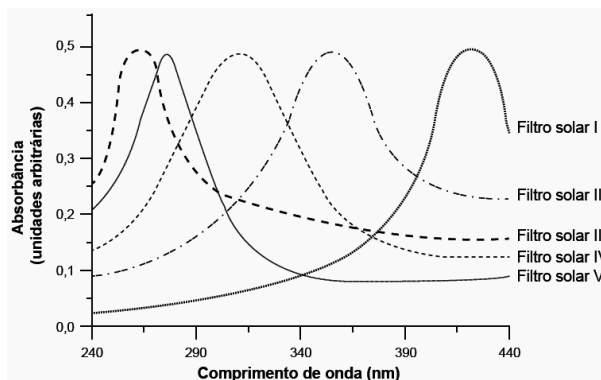
Estudo Matemático da Onda / Período, Potência, Frequência, Comprimento, etc

44 - (ENEM/2015)

A radiação ultravioleta (UV) é dividida, de acordo com três faixas de frequência, em UV-A, UV-B e UV-C, conforme a figura.



Para selecionar um filtro solar que apresente absorção máxima na faixa UV-B, uma pessoa analisou os espectros de absorção da radiação UV de cinco filtros solares:



Considere: velocidade da luz = $3,0 \times 10^8$ m/s e $1 \text{ nm} = 1,0 \times 10^{-9}$ m.

O filtro solar que a pessoa deve selecionar é o

- a) V.
- b) IV.
- c) III.

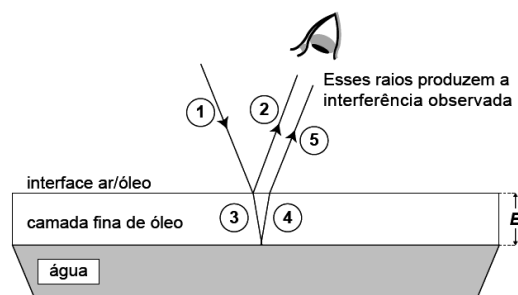
d) II.

e) I.

Interferência de Ondas / Condições, Defasagem etc

45 - (ENEM/2015)

Certos tipos de superfícies na natureza podem refletir luz de forma a gerar um efeito de arco-íris. Essa característica é conhecida como iridescência e ocorre por causa do fenômeno da interferência de película fina. A figura ilustra o esquema de uma fina camada iridescente de óleo sobre uma poça d'água. Parte do feixe de luz branca incidente (1) reflete na interface ar/óleo e sofre inversão de fase (2), o que equivale a uma mudança de meio comprimento de onda. A parte refratada do feixe (3) incide na interface óleo/água e sofre reflexão sem inversão de fase (4). O observador indicado enxergará aquela região do filme com coloração equivalente à do comprimento de onda que sofre interferência completamente construtiva entre os raios (2) e (5), mas essa condição só é possível para uma espessura mínima da película. Considere que o caminho percorrido em (3) e (4) corresponde ao dobro da espessura E da película de óleo.



Disponível em: <http://2011.igem.org>. Acesso em: 18 nov. 2014 (adaptado).

Expressa em termos do comprimento de onda (λ), a espessura mínima é igual a

a) $\frac{\lambda}{4}$.

b) $\frac{\lambda}{2}$.

c) $\frac{3\lambda}{4}$.

d) λ .

e) 2λ .

Acústica / Som , Efeito Doppler e Eco

46 - (ENEM/2015)

Ao ouvir uma flauta e um piano emitindo a mesma nota musical, consegue-se diferenciar esses instrumentos um do outro.

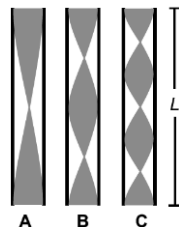
Essa diferenciação se deve principalmente ao(à)

- a) intensidade sonora do som de cada instrumento musical.
- b) potência sonora do som emitido pelos diferentes instrumentos musicais.
- c) diferente velocidade de propagação do som emitido por cada instrumento musical.
- d) timbre do som, que faz com que os formatos das ondas de cada instrumento sejam diferentes.
- e) altura do som, que possui diferentes frequências para diferentes instrumentos musicais.

Acústica / Cordas e Tubos Sonoros

47 - (ENEM/2015)

Em uma flauta, as notas musicais possuem frequências e comprimentos de onda (λ) muito bem definidos. As figuras mostram esquematicamente um tubo de comprimento L , que representa de forma simplificada uma flauta, em que estão representados: em A o primeiro harmônico de uma nota musical (comprimento de onda λ_A), em B seu segundo harmônico (comprimento de onda λ_B) e em C o seu terceiro harmônico (comprimento de onda λ_C), onde $\lambda_A > \lambda_B > \lambda_C$.



Em função do comprimento do tubo, qual o comprimento de onda da oscilação que forma o próximo harmônico?

- a) $\frac{L}{4}$
- b) $\frac{L}{5}$
- c) $\frac{L}{2}$
- d) $\frac{L}{8}$

e) $\frac{6L}{8}$

Estudo Matemático da Onda / Período, Potência, Freqüência, Comprimento, etc

48 - (ENEM/2015)

Em altos-fornos siderúrgicos, as temperaturas acima de 600 °C são mensuradas por meio de pirômetros óticos. Esses dispositivos apresentam a vantagem de medir a temperatura de um objeto aquecido sem necessidade de contato. Dentro de um pirômetro ótico, um filamento metálico é aquecido pela passagem de corrente elétrica até que sua cor seja a mesma que a do objeto aquecido em observação. Nessa condição, a temperatura conhecida do filamento é idêntica à do objeto aquecido em observação.

Disponível em: www.if.usp.br. Acesso em: 4 ago. 2012 (adaptado).

A propriedade da radiação eletromagnética avaliada nesse processo é a

- a) amplitude.
- b) coerência.
- c) frequência.
- d) intensidade.
- e) velocidade.

Fenômenos Ondulatórios / Batimentos, Ondas Estacionárias e Ressonância

49 - (ENEM/2015)

Durante uma aula experimental de física, os estudantes construíram um sistema ressonante com pêndulos simples. As características de cada pêndulo são apresentadas no quadro. Inicialmente, os estudantes colocaram apenas o pêndulo A para oscilar.

Pêndulo	Massa	Comprimento do barbante
A	M	L
1	M	L
2	$\frac{M}{2}$	$2L$
3	$2M$	$\frac{L}{2}$
4	$\frac{M}{2}$	$\frac{L}{2}$
5	$2M$	L

Quais pêndulos, além desse, passaram também a oscilar?

- a) 1, 2, 3, 4 e 5.
- b) 1, 2 e 3.
- c) 1 e 4.
- d) 1 e 5.
- e) 3 e 4.

Acústica / Som , Efeito Doppler e Eco

50 - (ENEM/2014)

Um tipo de radar utilizado para medir a velocidade de um carro baseia-se no efeito Doppler. Nesse caso, as ondas eletromagnéticas são enviadas pelo radar e refletem no veículo em movimento e, posteriormente, são detectadas de volta pelo radar.

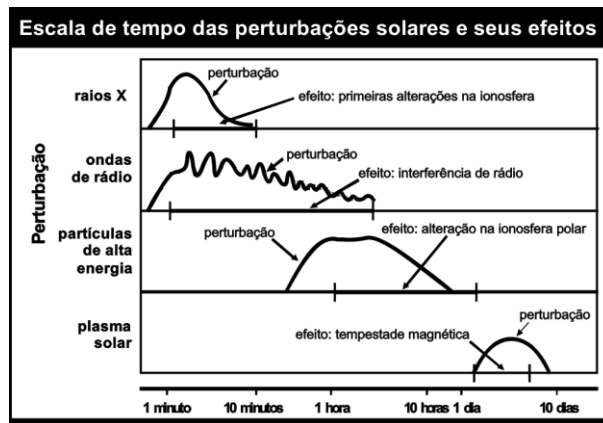
Um carro movendo-se em direção ao radar reflete ondas com

- a) altura menor.
- b) amplitude menor.
- c) frequência maior.
- d) intensidade maior.
- e) velocidade maior.

Ondas Eletromagnéticas / Ondas Eletromagnéticas

51 - (ENEM/2007)

Explosões solares emitem radiações eletromagnéticas muito intensas e ejetam, para o espaço, partículas carregadas de alta energia, o que provoca efeitos danosos na Terra. O gráfico abaixo mostra o tempo transcorrido desde a primeira detecção de uma explosão solar até a chegada dos diferentes tipos de perturbação e seus respectivos efeitos na Terra.



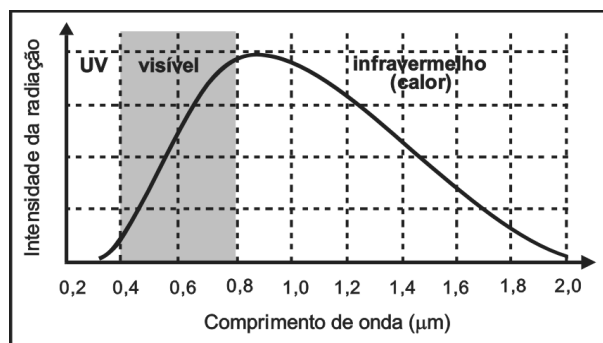
Internet: <www.sec.noaa.gov> (com adaptações).

Considerando-se o gráfico, é correto afirmar que a perturbação por ondas de rádio geradas em uma explosão solar

- dura mais que uma tempestade magnética.
- chega à Terra dez dias antes do plasma solar.
- chega à Terra depois da perturbação por raios X.
- tem duração maior que a da perturbação por raios X.
- tem duração semelhante à da chegada à Terra de partículas de alta energia.

52 - (ENEM/2008)

A passagem de uma quantidade adequada de corrente elétrica pelo filamento de uma lâmpada deixa-o incandescente, produzindo luz. O gráfico abaixo mostra como a intensidade da luz emitida pela lâmpada está distribuída no espectro eletromagnético, estendendo-se desde a região do ultravioleta (UV) até a região do infravermelho.



A eficiência luminosa de uma lâmpada pode ser definida como a razão entre a quantidade de energia emitida na forma de luz visível e a quantidade total de energia gasta para o seu funcionamento. Admitindo-se que essas duas

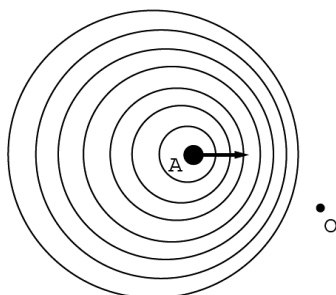
quantidades possam ser estimadas, respectivamente, pela área abaixo da parte da curva correspondente à faixa de luz visível e pela área abaixo de toda a curva, a eficiência luminosa dessa lâmpada seria de aproximadamente

- a) 10%.
- b) 15%.
- c) 25%.
- d) 50%.
- e) 75%.

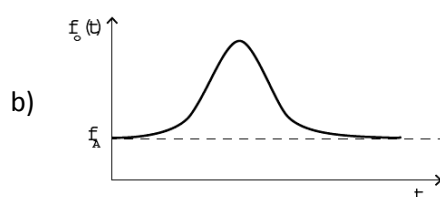
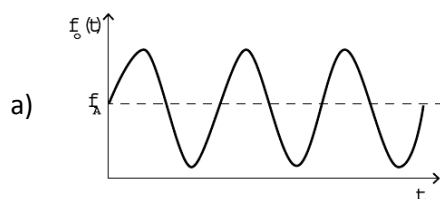
Acústica / Som , Efeito Doppler e Eco

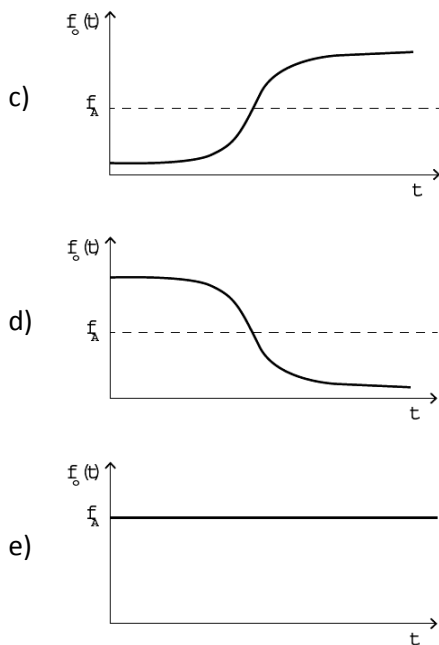
53 - (ENEM/2016)

Uma ambulância A em movimento retilíneo e uniforme aproxima-se de um observador O, em repouso. A sirene emite um som de frequência constante f_A . O desenho ilustra as frentes de onda do som emitido pela ambulância. O observador possui um detector que consegue registrar, no esboço de um gráfico, a frequência da onda sonora detectada em função do tempo $f_O(t)$, antes e depois da passagem da ambulância por ele.



Qual esboço gráfico representa a frequência $f_O(t)$ detectada pelo observador?

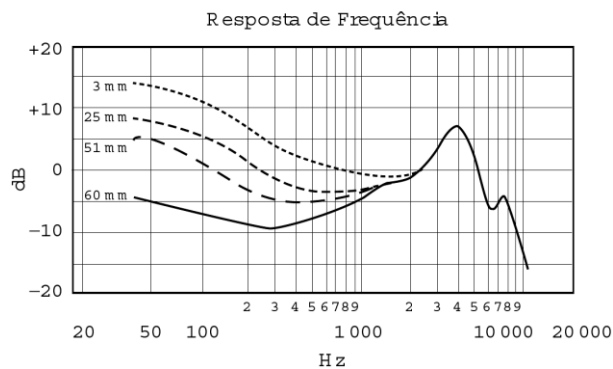




54 - (ENEM/2016)

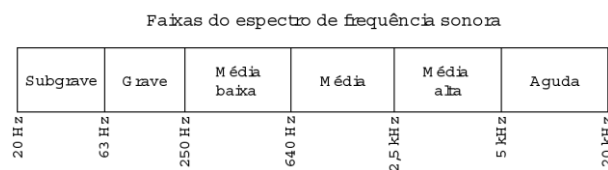
A Figura 1 apresenta o gráfico da intensidade, em decibéis (dB), da onda sonora emitida por um alto-falante, que está em repouso, e medida por um microfone em função da frequência da onda para diferentes distâncias: 3 mm, 25 mm, 51 mm e 60 mm. A Figura 2 apresenta um diagrama com a indicação das diversas faixas do espectro de frequência sonora para o modelo de alto-falante utilizado neste experimento.

Figura 1



Disponível em: www.batera.com.br.
Acesso em: 8 fev. 2015.

Figura 2



Disponível em: www.somsc.com.br.
Acesso em: 2 abr. 2015.

Relacionando as informações presentes nas figuras 1 e 2, como a intensidade sonora percebida é afetada pelo aumento da distância do microfone ao alto-falante?

- a) Aumenta na faixa das frequências médias.
- b) Diminui na faixa das frequências agudas.
- c) Diminui na faixa das frequências graves.
- d) Aumenta na faixa das frequências médias altas.
- e) Aumenta na faixa das frequências médias baixas.

Estudo Matemático da Onda / Período, Potência, Frequência, Comprimento, etc

55 - (ENEM/2016)

O morcego emite pulsos de curta duração de ondas ultrassônicas, os quais voltam na forma de ecos após atingirem objetos no ambiente, trazendo informações a respeito das suas dimensões, suas localizações e dos seus possíveis movimentos. Isso se dá em razão da sensibilidade do morcego em detectar o tempo gasto para os ecos voltarem, bem como das pequenas variações nas frequências e nas intensidades dos pulsos ultrassônicos. Essas características lhe permitem caçar pequenas presas mesmo quando estão em movimento em relação a si. Considere uma situação unidimensional em que uma mariposa se afasta, em movimento retilíneo e uniforme, de um morcego em repouso.

A distância e velocidade da mariposa, na situação descrita, seriam detectadas pelo sistema de um morcego por quais alterações nas características dos pulsos ultrassônicos?

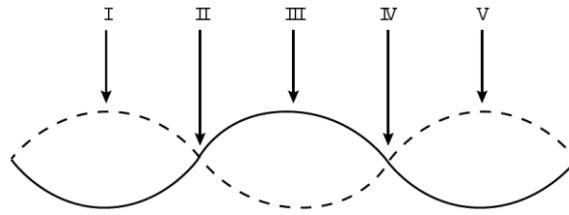
- a) Intensidade diminuída, o tempo de retorno aumentado e a frequência percebida diminuída.
- b) Intensidade aumentada, o tempo de retorno diminuído e a frequência percebida diminuída.
- c) Intensidade diminuída, o tempo de retorno diminuído e a frequência percebida aumentada.
- d) Intensidade diminuída, o tempo de retorno aumentado e a frequência percebida aumentada.
- e) Intensidade aumentada, o tempo de retorno aumentado e a frequência percebida aumentada.

Fenômenos Ondulatórios / Batimentos, Ondas Estacionárias e Ressonância

56 - (ENEM/2016)

Um experimento para comprovar a natureza ondulatória da radiação de micro-ondas foi realizado da seguinte forma: anotou-se a frequência de operação de um forno de micro-ondas e, em seguida, retirou-se sua plataforma giratória. No seu lugar, colocou-se uma travessa refratária com uma camada grossa de manteiga. Depois disso, o forno foi ligado por alguns segundos. Ao se retirar a travessa refratária do forno, observou-se que havia três pontos

de manteiga derretida alinhados sobre toda a travessa. Parte da onda estacionária gerada no interior do forno é ilustrada na figura.



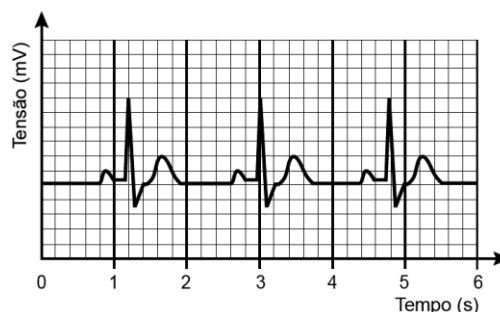
De acordo com a figura, que posições correspondem a dois pontos consecutivos da manteiga derretida?

- a) I e III
- b) I e V
- c) II e III
- d) II e IV
- e) II e V

Estudo Matemático da Onda / Período, Potência, Frequência, Comprimento, etc

57 - (ENEM/2016)

O eletrocardiograma, exame utilizado para avaliar o estado do coração de um paciente, trata-se do registro da atividade elétrica do coração ao longo de um certo intervalo de tempo. A figura representa o eletrocardiograma de um paciente adulto, descansado, não fumante, em um ambiente com temperatura agradável. Nessas condições, é considerado normal um ritmo cardíaco entre 60 e 100 batimentos por minuto.



Com base no eletrocardiograma apresentado, identifica-se que a frequência cardíaca do paciente é

- a) normal.






- b) acima do valor ideal.
- c) abaixo do valor ideal.
- d) próxima do limite inferior.
- e) próxima do limite superior.

Fenômenos Ondulatórios / Difração, Polarização, etc

58 - (ENEM/2016)

Nas rodovias, é comum motoristas terem a visão ofuscada ao receberem a luz refletida na água empoçada no asfalto. Sabe-se que essa luz adquire polarização horizontal. Para solucionar esse problema, há a possibilidade de o motorista utilizar óculos de lentes constituídas por filtros polarizadores. As linhas nas lentes dos óculos representam o eixo de polarização dessas lentes.

Quais são as lentes que solucionam o problema descrito?

- a) 
- b) 
- c) 
- d) 
- e) 

Estudo Matemático da Onda / Período, Potência, Freqüência, Comprimento, etc

59 - (ENEM/2016)

As notas musicais podem ser agrupadas de modo a formar um conjunto. Esse conjunto pode formar uma escala musical. Dentre as diversas escalas existentes, a mais difundida é a escala diatônica, que utiliza as notas denominadas *dó*, *ré*, *mi*, *fá*, *sol*, *lá* e *si*. Essas notas estão organizadas em ordem crescente de alturas, sendo a nota *dó* a mais baixa e a nota *si* a mais alta.

Considerando uma mesma oitava, a nota *si* é a que tem menor

- a) amplitude.
- b) frequência.
- c) velocidade.
- d) intensidade.
- e) comprimento de onda.

GABARITO:

1) Gab: C

2) Gab: B

3) Gab: E

4) Gab: C

5) Gab: E

6) Gab: D

7) Gab: B

8) Gab: C

9) Gab: E

10) Gab: E

11) Gab: C

12) Gab: D

13) Gab: E

14) Gab: B

15) Gab: D

16) Gab: D

17) Gab: E

18) Gab: B

19) Gab: E

20) Gab: E

21) Gab: A

22) Gab: B

23) Gab: B

24) Gab: A

25) Gab: A

26) Gab: E

27) Gab: A

28) Gab: A

29) Gab: C

30) Gab: E

31) Gab: A

32) Gab: D

33) Gab: B

34) Gab: D

35) Gab: C

36) Gab: D

37) Gab: B

38) Gab: C

39) Gab: B

40) Gab: C

41) Gab: A

42) Gab: A

43) Gab: E

44) Gab: B

45) Gab: A

46) Gab: D

47) Gab: C

48) Gab: C

49) Gab: D

50) Gab: C

51) Gab: D

52) Gab: C

53) Gab: D

54) Gab: C

55) Gab: A

56) Gab: A

57) Gab: C

58) Gab: A

59) Gab: E